

الشعبة : الرياضيات + العلوم التجريبية + التقنية

المادة : التاريخ

الصفحة : ساعة ونصف : 1

الجمهورية التونسية
وزارة التربية والتكوين

امتحان البكالوريا

دورة جوان 2006

يختار المترشح أحد الموضوعين التاليين :

الموضوع الأول : مقال


أسهمت ظرفية العشرينات في تركيز النضال الوطني بالبلاد التونسية .

- حدّد خصائص ظرفية العشرينات .
- بيّن مظاهر تركيز النضال الوطني .
- وضح ردود فعل سلط الحماية تجاه هذا النضال .


الموضوع الثاني : شرح وثائق

الحصيلة البشرية والاقتصادية والنتائج الجغرافية لالحرب العالمية الثانية

الوثيقة 1 :



مشهد لمدينة كولونيا بألمانيا
بعد القصف الأنجلو-أمريكي



مشهد لمدينة هيروشيما باليابان
بعد قصفها بالقنبلة النووية
6 أوت 1945

المصدر : * من الإمبريالية إلى الاستقلال 1881-1960
ص 211، ج II ، الشركة التونسية للتوزيع 1967

الوثيقة 2 : الخسائر البشرية للحرب العالمية الثانية في بعض الأقطار المشاركة.
(الوحدة : ألف نسمة)

الولايات المتحدة الأمريكية	فرنسا	ألمانيا	الاتحاد السوفياتي	القطر الخسائر
292	210	2 850	14 500	الخسائر البشرية من العسكريين
*	40	2 300	7 000	الخسائر البشرية من المدنيين

المصدر : كتاب التاريخ والجغرافيا - مستوى الثالثة - مانيار - ص 83

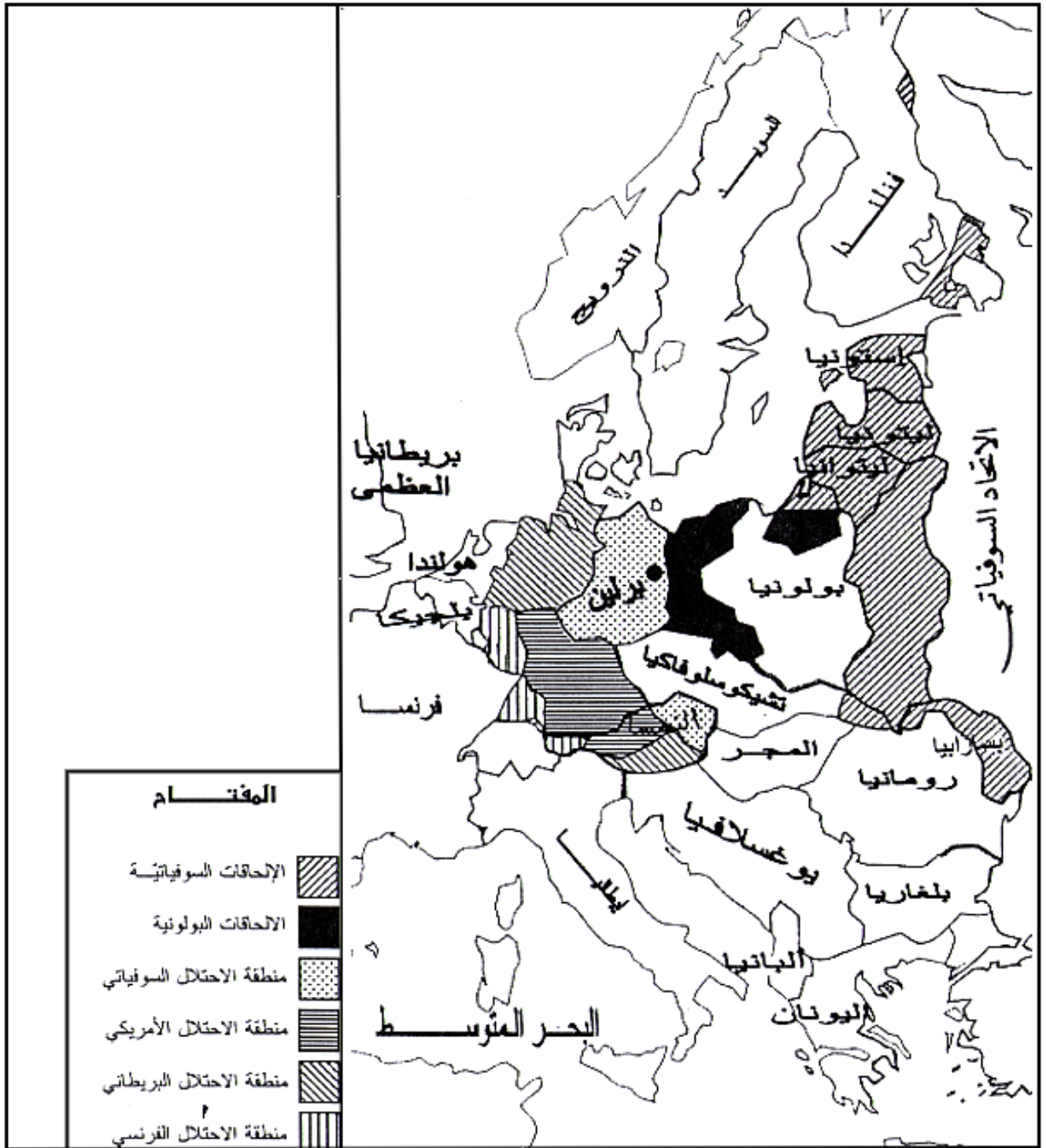
* عدد ضعيف جدًا.

الوثيقة 3 : تطوّر إنتاج بعض المواد الفلاحية والصناعية بالولايات المتحدة الأمريكية
خلال الحرب العالمية الثانية (1940 - 1945).

(الوحدة : مليون طن)

المنتجات السنوات	قمح	حديد	فولاذ	فحم حجري	نפט
1940	20	26	48	402	171
1945	30	45	72	571	232

المصدر : كتاب التاريخ للأقسام النهائية - هاشات 1989 ، ص 23



المصدر : مصطلحات ووثائق التاريخ والجغرافيا شولانج 1975 ص 223

إشرح الوثائق مستعينا بالأسئلة التالية :

- (1) قَدِّمِ الوثائق.
- (2) بين الخسائر البشرية والمادية للحرب العالمية الثانية.
- (3) أدرس النتائج الاقتصادية المترتبة عنها.
- (4) أدرس التغيرات الجغرافية السياسية في أوروبا عند نهاية الحرب العالمية الثانية.