

الاختبار: التاريخ والجغرافيا		الجمهورية التونسية	
الشعبة : الآداب		وزارة التربية	
الضارب : 3	الحصة : 3 س	●●○○●●	
الدورة الرئيسية		امتحان البكالوريا	
		دورة 2017	

على المترشح أن يستعمل في تحريره ورقتين منفصلتين إحداهما خاصة بالتاريخ والأخرى خاصة بالجغرافيا

التاريخ (20 نقطة)

يختار المترشح أحد الموضوعين التاليين

الموضوع الأول: مقال

- خاض الوطنيون التونسيون ثلاث تجارب للحوار والتفاوض مع السلطات الفرنسية بين 1936 و1955.
- أبرز الظروف المساعدة على انطلاق كل تجربة.
 - وضح المطالب التي عرضها الوطنيون التونسيون في كل منها.
 - بين حصيلة كل تجربة.

الموضوع الثاني: مقال

- تحوّلت الأزمة الاقتصادية التي اندلعت بالولايات المتحدة الأمريكية سنة 1929 إلى أزمة اقتصادية عالمية.
- أبرز مظاهر الأزمة في الولايات المتحدة الأمريكية.
 - بين آليات انتشارها في العالم.
 - اشرح الحلول المعتمدة لتجاوز هذه الأزمة.

الجغرافيا (20 نقطة)

يختار المترشح أحد الموضوعين التاليين

الموضوع الأول: دراسة وثائق

الأدفاق التجارية والمالية في العالم

الوثيقة 1: تطور قيمة صادرات السلع في العالم بين 2000 و2014 (بالمليار دولار أمريكي)

السنوات	2000	2005	2010	2014
البلدان المتقدمة	4393	6694	8864	10518
البلدان النامية	2059	3808	6438	8485
العالم	6452	10502	15302	19003

المصدر: مؤتمر الأمم المتحدة للتجارة والتنمية، كتاب الإحصائيات، 2015، ص.2.

الوثيقة 2: تطور أدفاق الاستثمار الأجنبي المباشر الوارد في العالم بين 2005 و 2015


(بالمليار دولار أمريكي)

السنوات	2005	2010	2015
البلدان المتقدمة	655	763	997
البلدان النامية	334	625	765
العالم	989	1388	1762

المصدر: ملامح العالم الاقتصادية 2017، ص 72.

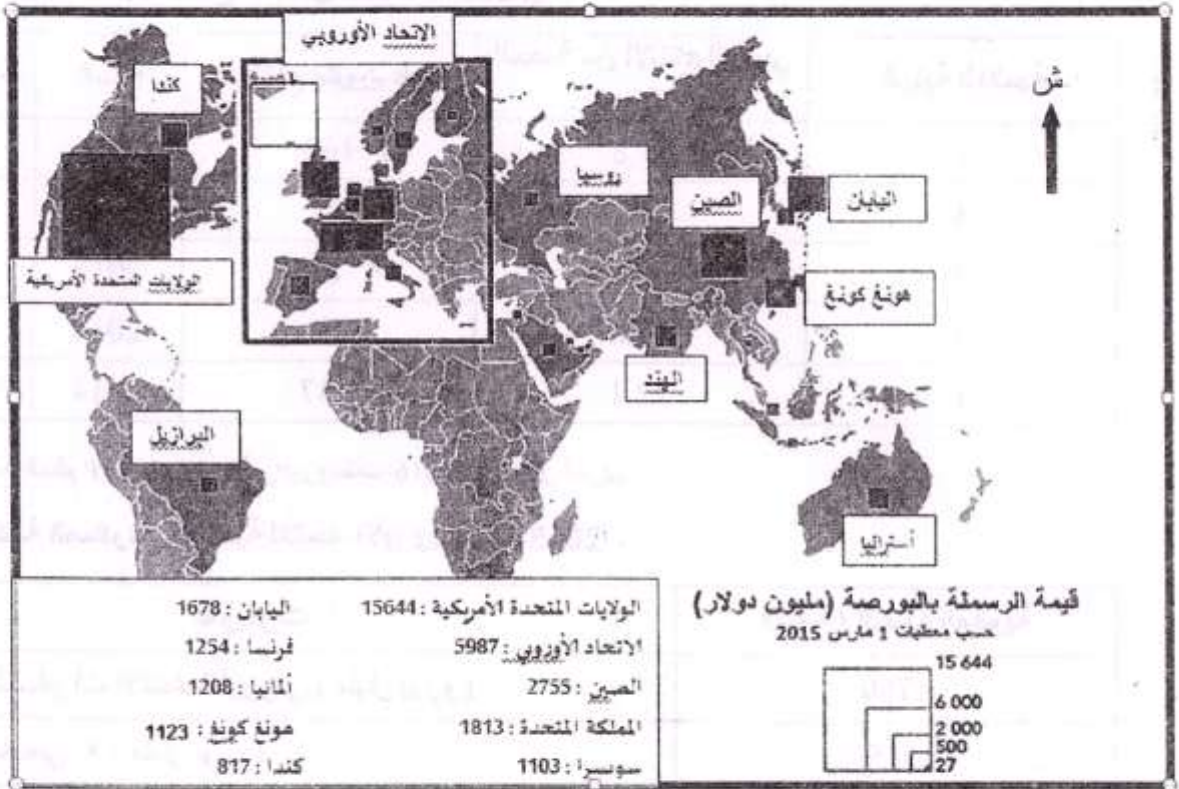
الوثيقة 3: الأطراف المتحكمة في النظام التجاري والمالي العالمي.

- OMC : المنظمة العالمية للتجارة.
- FMI : صندوق النقد الدولي.
- \$ € ¥ : الدولار الأمريكي، اليورو، اليان (غفلات الثالوث).



المصدر: رسم كاريكاتوري للرسم سوبيتو، ورد بموقع "الحبر الأسود"، أبريل 2010.

الوثيقة 4: توزع الخمسمائة شركة عبر القطرية الأولى في العالم حسب الرسملة في البورصة
(سنة 2015)



المصدر: موقع ورشة رسم الخرائط، العلوم السياسية.

* الرسملة في البورصة: القيمة الجمليّة لأسم الشركة المدرجة بالبورصة في تاريخ معين.

* أدرس الوثائق معتمدا الأسئلة التالية:

1. حدّد الإشكالية العامة للوثائق.
2. عرّف ما يلي: الشركات عبر القطرية، المنظمة العالمية للتجارة.
3. حول معطيات الوثيقة 2 إلى رسم بياني مناسب على الورقة المصاحبة، (الملحق عدد 1).
4. اعتمادا على الوثيقتين 1 و2 بيّن خصائص تطوّر قيمة صادرات السلع وقيمة الاستثمار الأجنبي المباشر الوارد في العالمين المتقدم والنامي.
5. انطلاقا من الوثيقتين 3 و4 حدّد الأطراف المتخلّطة في الأدفاق التجارية والمالية في العالم مبرزاً دورها في تنظيم هذه الأدفاق.

* ملاحظة: تقع الإجابة عن كل سؤال على حدة، لا في شكل تحرير مُسترسل.

الموضوع الثاني : دراسة إحصائيات

القوة الفلاحية للاتحاد الأوروبي

الجدول 1 : مؤشرات حول الإنتاج الفلاحي للاتحاد الأوروبي

المنتوجات	السنة	الإنتاج مليون طن	الحصة من الإنتاج العالمي %	الرتبة العالمية
القمح	2016	160	21.8	1
الذرة	2016	58	6	4
السكر	2015	15	7.9	3
لحوم الأبقار	2014	7	10.8	3
حليب الأبقار	2014	147	22.1	1

المصدر : ملامح العالم الاقتصادية 2017 و أوروبستات 2016 ومصادر أخرى.

الجدول 2 : مكاتنة الصادرات الفلاحية للاتحاد الأوروبي سنة 2015

المؤشرات	القيمة / النسبة المئوية
القيمة الجمالية لصادرات الاتحاد الأوروبي (مليار يورو)	1789
قيمة الإنتاج الفلاحي * (مليار يورو)	415
قيمة الصادرات الفلاحية للاتحاد الأوروبي * (مليار يورو)	129
نسبة الصادرات الفلاحية من مجموع الصادرات (%)	7.2

* سنة 2014

المصدر : السياسة الفلاحية المشتركة في أرقام، منشورات البرلمان الأوروبي، 2016.

الجدول 3 : أذفاق الصادرات الفلاحية للاتحاد الأوروبي سنة 2015

البلدان	القيمة (مليار يورو)	النسبة من مجموع الصادرات الفلاحية للاتحاد الأوروبي
الولايات المتحدة الأمريكية	20	15 %
الصين	10	8 %
روسيا	5.6	4.3 %
اليابان	5.4	4.1 %
البرازيل	1.6	1.2 %
الهند	0.7	0.6 %

المصدر : السياسة الفلاحية المشتركة في أرقام، منشورات البرلمان الأوروبي، 2016.

الجدول 4 : دعائم القوة الفلاحية للاتحاد الأوروبي

العدد الجملي للسكان (2015)	510 مليون ساكن
الأراضي الصالحة للزراعة (2013)	175 مليون هكتار
مساحة الغابات (2015)	161 مليون هكتار
مردود زراعات الحبوب (2014)	57 قنطار / هكتار
عدد الجرارات الفلاحية (بالمائة كيلومتر مربع سنة 2014)	708 جرّار
معدل استعمال الأسمدة الكيماوية (بالهكتار سنة 2014)	160 كيلوغرام
المساعدات المباشرة من الصندوق الأوروبي للتوجيه والضمان الفلاحي (2014)	42 مليار يورو

المصدر : - السياسة الفلاحية المشتركة في أرقام، منشورات البرلمان الأوروبي، 2016 .

- موقع البنك العالمي، الفلاحة والتنمية الريفية بالاتحاد الأوروبي 2016.

أدرس الجداول الإحصائية معتمدا الأسئلة التالية *

1. حدّد الإشكالية العامة للجداول.
2. عرّف الصندوق الأوروبي للتوجيه والضمان الفلاحي.
3. بالاعتماد على الجدول 3، أرسم على الخريطة المصاحبة (الملحق عدد 2) أذفاق الصادرات الفلاحية للاتحاد الأوروبي حسب القيمة بالمليار يورو.
4. بيّن بالاعتماد على الجداول مظاهر القوة الفلاحية للاتحاد الأوروبي.
5. صنّف بالاعتماد على الجدول 4 دعائم هذه القوة و اشرحها.

* ملاحظة: تقع الإجابة عن كل سؤال على حدة، لا في شكل تحرير مُسترسل.

إمضاء المراقبين

.....

.....


الشعبة : عدد الترسيم : السلسلة :

الاسم واللقب :

تاريخ الولادة ومكانها:



الجغرافيا شعبة الآداب - (الملحق عدد 1) - ترجع هذه الصفحة وجوبا مع أوراق التحارير



إمضاء المراقبين

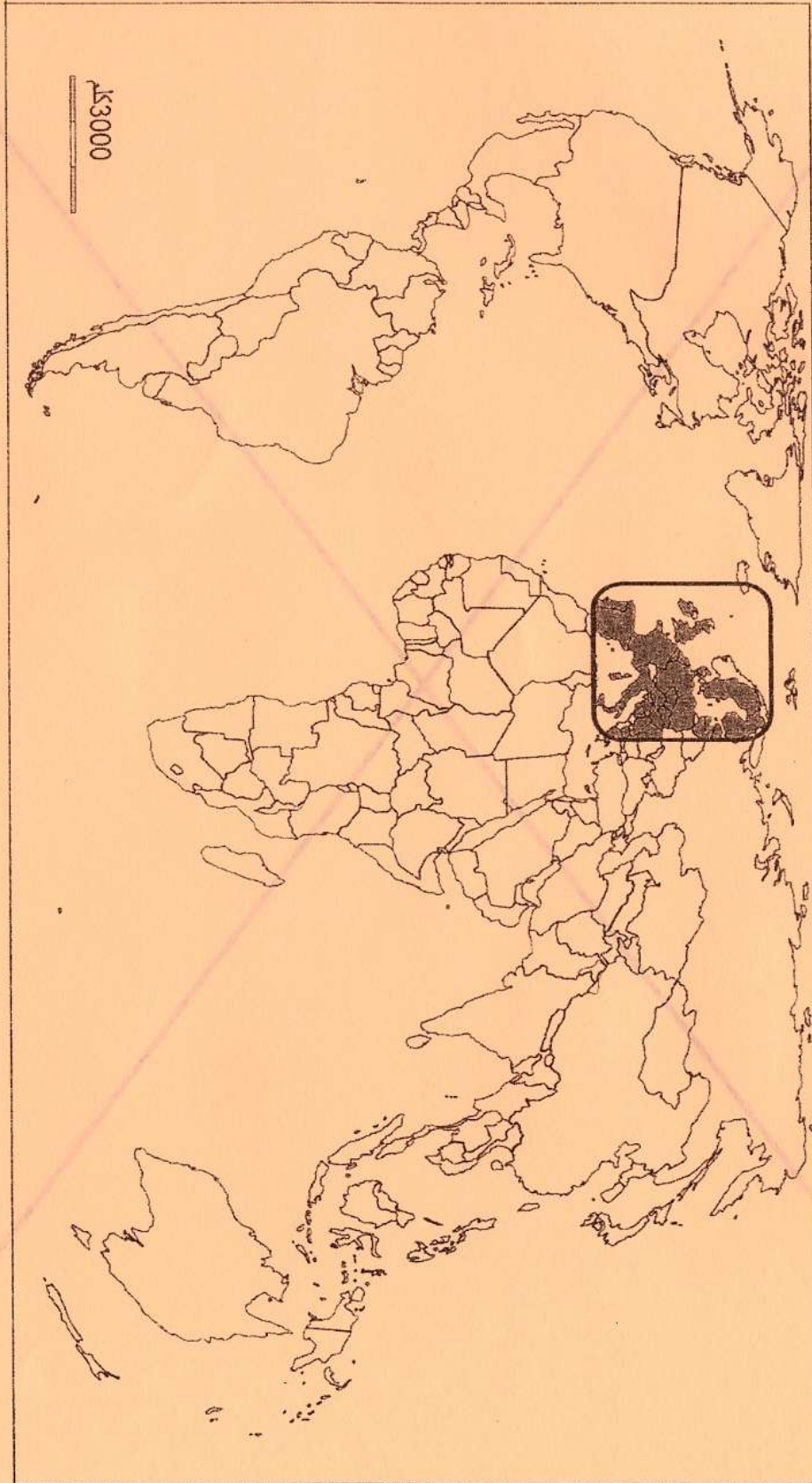
الشعبة: عدد الترسيم: السلسلة:

الاسم واللقب: تاريخ الولادة ومكانها:

إمضاء المصححين

العدد

الجغرافيا شعبة الآداب - (الملحق عدد 2) - ترجع هذه الصفحة وجوبا مع أوراق التعاريف



أهم البلدان الموزعة للمواد الفلاحية من الاتحاد الأوروبي

الاتحاد الأوروبي

المفتاح

