

Constitution du sujet :

Un dossier technique : Pages 1/6 – 2/6 – 3/6 – 4/6 – 5/6 et 6/6.

Des feuilles réponses : Pages 1/8 – 2/8 – 3/8 – 4/8 – 5/8 – 6/8 – 7/8 et 8/8

Travail demandé :

A- PARTIE GENIE MÉCANIQUE : pages 1/8-2/8-3/8 et 4/8. (10 points)

B- PARTIE GENIE ÉLECTRIQUE : pages 5/8- 6/8-7/8 et 8/8 (10 points)

Observation : Aucune documentation n'est autorisée. L'utilisation de la calculatrice est permise.

**UNITE DE PREPARATION DE MEMBRANES
DE PILE A COMBUSTIBLE**

1- Présentation du système

Le système à étudier (voir figure 1) est destiné à la préparation de membranes d'une **pile à combustible***.

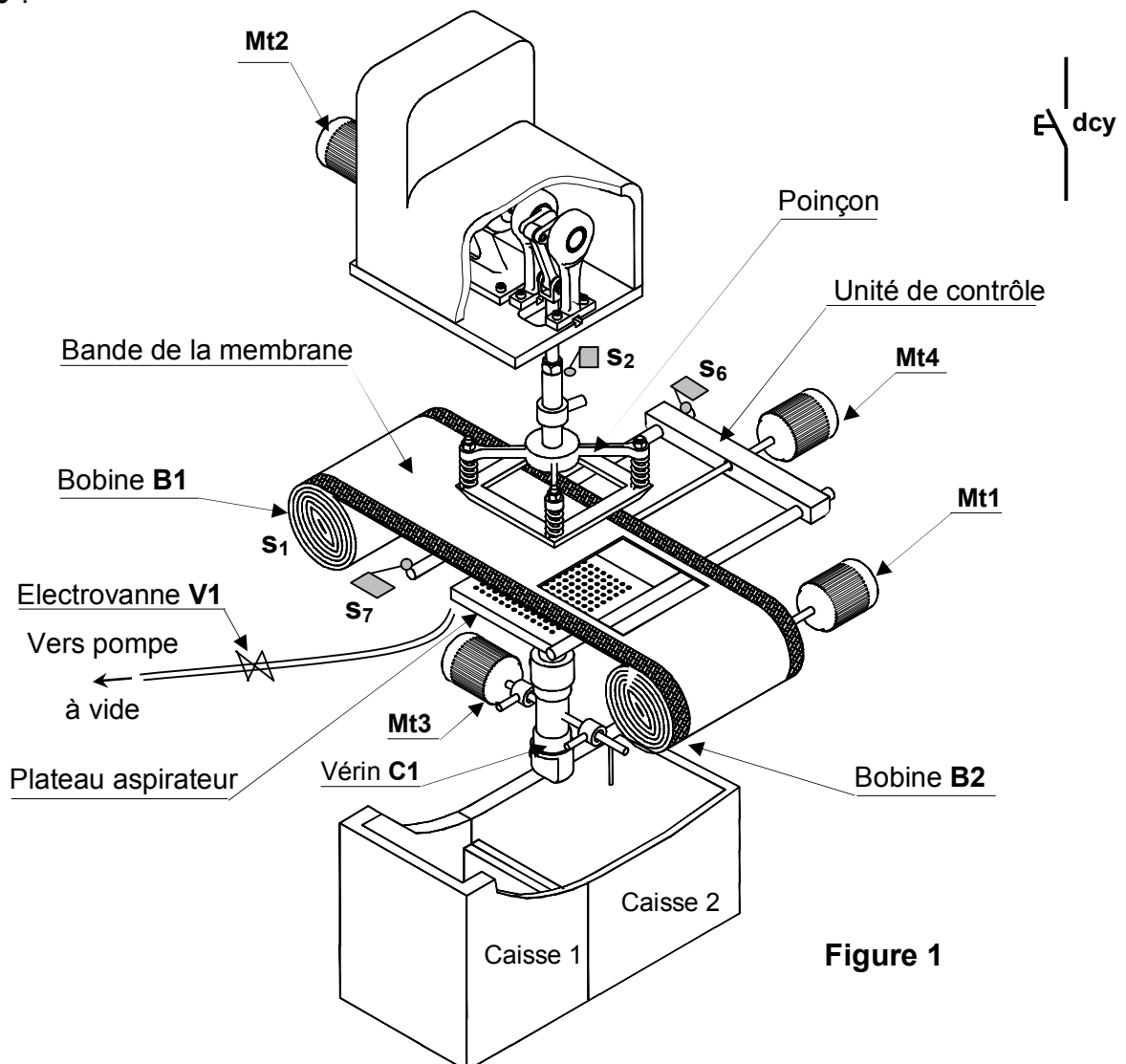


Figure 1

*Une pile à combustible est un générateur électrochimique équipant les moteurs de certains véhicules électriques.

2- Description du système

Ce système comporte essentiellement :

- une unité d'**entraînement** permettant l'avance de la bande de la membrane enroulée sur une bobine **B1**; cette unité est entraînée par un moteur **Mt1**.
- une unité de **découpage** assurant le découpage de la membrane à l'aide d'un **poinçon** entraîné par un moteur **Mt2**.
- une unité de **contrôle** permettant le contrôle des dimensions de la membrane.
- une unité de **rangement** permettant le rangement des bonnes membranes dans la **caisse 2** et des mauvaises membranes dans la **caisse 1**.

3- Fonctionnement du système

Se référer au dossier technique page 1/6 et au tableau d'identification ci-dessous.

A l'état initial, les capteurs ℓ_{10} , s_1 , s_2 , s_3 et s_6 sont actionnés et les moteurs **Mt3** et **Mt4** sont à l'arrêt. Les moteurs **Mt1** et **Mt2** sont en rotation continue et ne feront pas l'objet de l'étude fonctionnelle.

Une action sur le bouton de mise en marche (**dcy**) engendre successivement les opérations suivantes :

- l'avance de la bande de la membrane durant **2s** par accouplement du moteur **Mt1** à la bobine **B2** à l'aide d'un embrayage frein électromagnétique commandé par un relais électromagnétique **KA1**.
- la sortie de la tige du vérin **C1** afin de soutenir la bande de la membrane à découper. L'action sur le capteur ℓ_{11} entraîne à la fois :
 - la descente du poinçon pour découper la membrane et sa montée jusqu'à ce qu'il actionne de nouveau le capteur s_2 ; ces deux mouvements sont obtenus par accouplement du moteur **Mt2** au mécanisme de découpage à l'aide d'un embrayage frein électromagnétique commandé par un relais électromagnétique **KA2**.
 - l'ouverture de l'électrovanne **V1** (commandée par le relais électromagnétique **KA**) permettant de maintenir la membrane à l'aide de la dépression générée par la pompe à vide.
- la rentrée de la tige du vérin **C1** jusqu'à l'action sur le capteur ℓ_{10} .
- l'avance puis le recul de l'unité de contrôle entraînée par une vis solidaire de l'arbre du moteur **Mt4** permettant ainsi de contrôler les dimensions de la membrane et de délivrer une information logique **X** telle que :
 - si $X = 1$, les dimensions de la membrane sont bonnes; ce qui provoque la rotation de 180° du plateau aspirateur entraîné par le moteur **Mt3** dans le sens avant jusqu'à l'action sur le capteur s_5 (voir figure 4 du dossier technique page 3/6). L'électrovanne **V1** se ferme et libère la membrane qui tombe dans la caisse 2.
 - si $X = 0$, les dimensions de la membrane sont mauvaises; ce qui provoque la rotation de 90° du moteur **Mt3** dans le sens avant jusqu'à l'action sur le capteur s_4 (voir figure 3 du dossier technique page 3/6). L'électrovanne **V1** se ferme et libère la membrane qui tombe dans la caisse 1.
- la rotation du moteur **Mt3** dans le sens arrière jusqu'à l'action sur le capteur s_3 et le cycle recommence.

Tableau d'identification

Actions	Actionneurs	Préactionneurs	Capteurs
		Présence bobine	s_1
Découpage de la bande	Moteur asynchrone triphasé Mt2 + électroaimant K2	Relais électromagnétique KA2	s_2
Contrôle de la bande	Moteur à courant continu Mt4	Contacteur KM41 (sens avant)	s_7
		Contacteur KM42 (sens arrière)	s_6
Maintien de la bande	Vérin hydraulique à double effet C1	Distributeur 4/5/2 14M1 (sortie)	ℓ_{11}
		Distributeur 4/5/2 12M1 (rentrée)	ℓ_{10}
Rangement de la membrane	Moteur à courant continu Mt3	Contacteur KM31 (sens avant)	s_4, s_5
		Contacteur KM32 (sens arrière)	s_3
Avance de la bande	Moteur asynchrone triphasé Mt1 + électroaimant K1	Relais électromagnétique KA1	
Maintien de la membrane	Electrovanne V1 + plateau aspirateur	Relais électromagnétique KA	

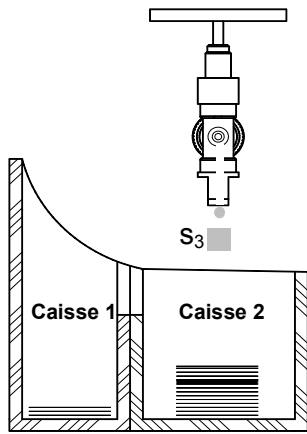


Figure 2

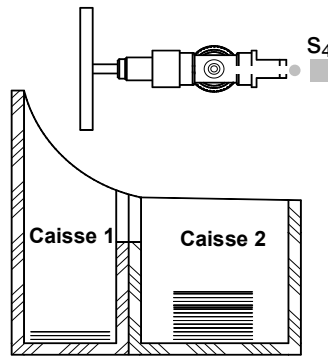


Figure 3

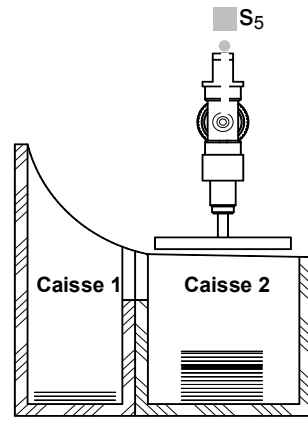


Figure 4

4- Tableaux d'affectation

a- Affectation des entrées :

Entrées du système	Entrées de l'A.P.I (TSX)	Entrées de l'A.P.I (AEG)
dcy	%I1.0	I15
S ₁	%I1.1	I1
S ₂	%I1.2	I2
S ₃	%I1.3	I3
S ₄	%I1.4	I4
S ₅	%I1.5	I5
S ₆	%I1.6	I6
S ₇	%I1.7	I7
l ₁₀	%I1.8	I8
l ₁₁	%I1.9	I9
X	%I1.10	I10

b- Affectation des sorties

Sorties du système	Sorties de l'A.P.I (TSX)	Entrées de l'A.P.I (AEG)
KA1	%Q2.0	Q1
KA2	%Q2.1	Q2
KM31	%Q2.2	Q3
KM32	%Q2.3	Q4
KM41	%Q2.4	Q5
KM42	%Q2.5	Q6
14M1	%Q4.0	Q7
12M1	%Q4.1	Q8
KA	%Q4.2	Q9
T1	%TM1	T1

c- Affectation des étapes GRAFCET :

Etapes	0	1	2	3	4	5	6	7	8	9
API TSX	%M0	%M1	%M2	%M3	%M4	%M5	%M6	%M7	%M8	%M9
API AEG	M128	M1	M2	M3	M4	M5	M6	M7	M8	M9

5- Schéma fonctionnel de l'asservissement de position du moteur Mt3

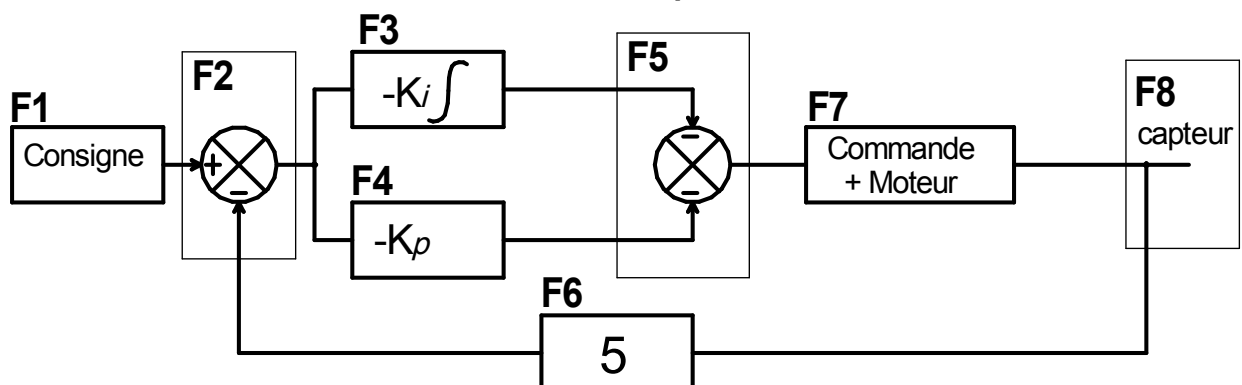
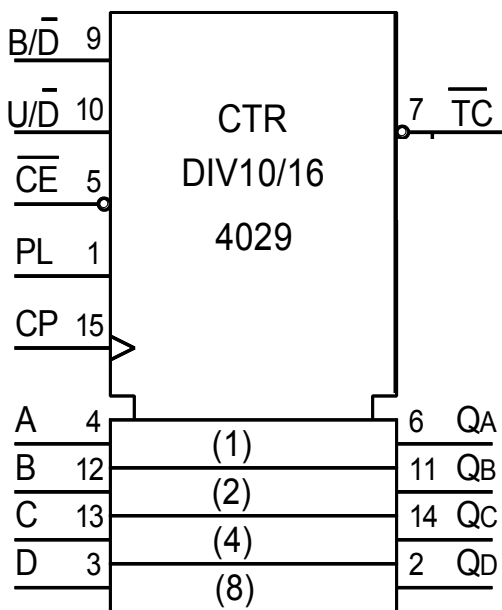


Figure 5

6- Données technologiques

Compteur/Décompteur synchrone décimal/binaire «CD 4029 »



Désignation	Description
CP	Entrée d'horloge activée au front montant
CE	Entrée de validation activée au niveau bas
PL	Entrée de chargement parallèle asynchrone activée au niveau haut
A, B, C, D	Entrée des données parallèles
QA, QB, QC, QD	Sorties
TC	Sortie de report ou de retenue
U / D	1 Logique : Compteur 0 Logique : Décompteur
B / D	1 Logique : Compteur / Décompteur binaire 0 Logique : Compteur / Décompteur décimal

7- Composant normalisé

Vis à tête cylindrique à six pans creux				
d	a	S1	l	x
M6	10	5	20	20
M8	13	6		
M10	16	8		

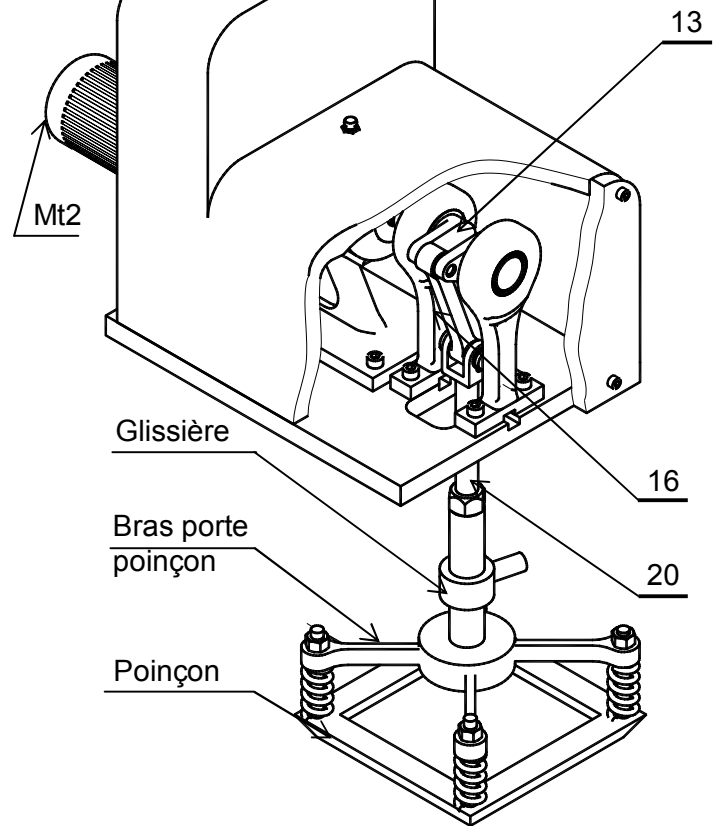
8- Description du dispositif d'entraînement du poinçon

Le dessin d'ensemble de la page 6/6 du dossier technique et la vue en 3D ci contre, représentent le dispositif d'entraînement du poinçon.

La rotation de l'arbre (31) du moteur Mt2 est transmise à la manivelle (13) par l'intermédiaire :

- d'un engrenage cylindrique formé par le pignon (32) et la couronne (3);
- d'un accouplement.

La rotation continue de la manivelle (13) et (18) provoque la translation du coulisseau (20) ; du bras porte poinçon et du poinçon, à l'aide de la bielle (16).

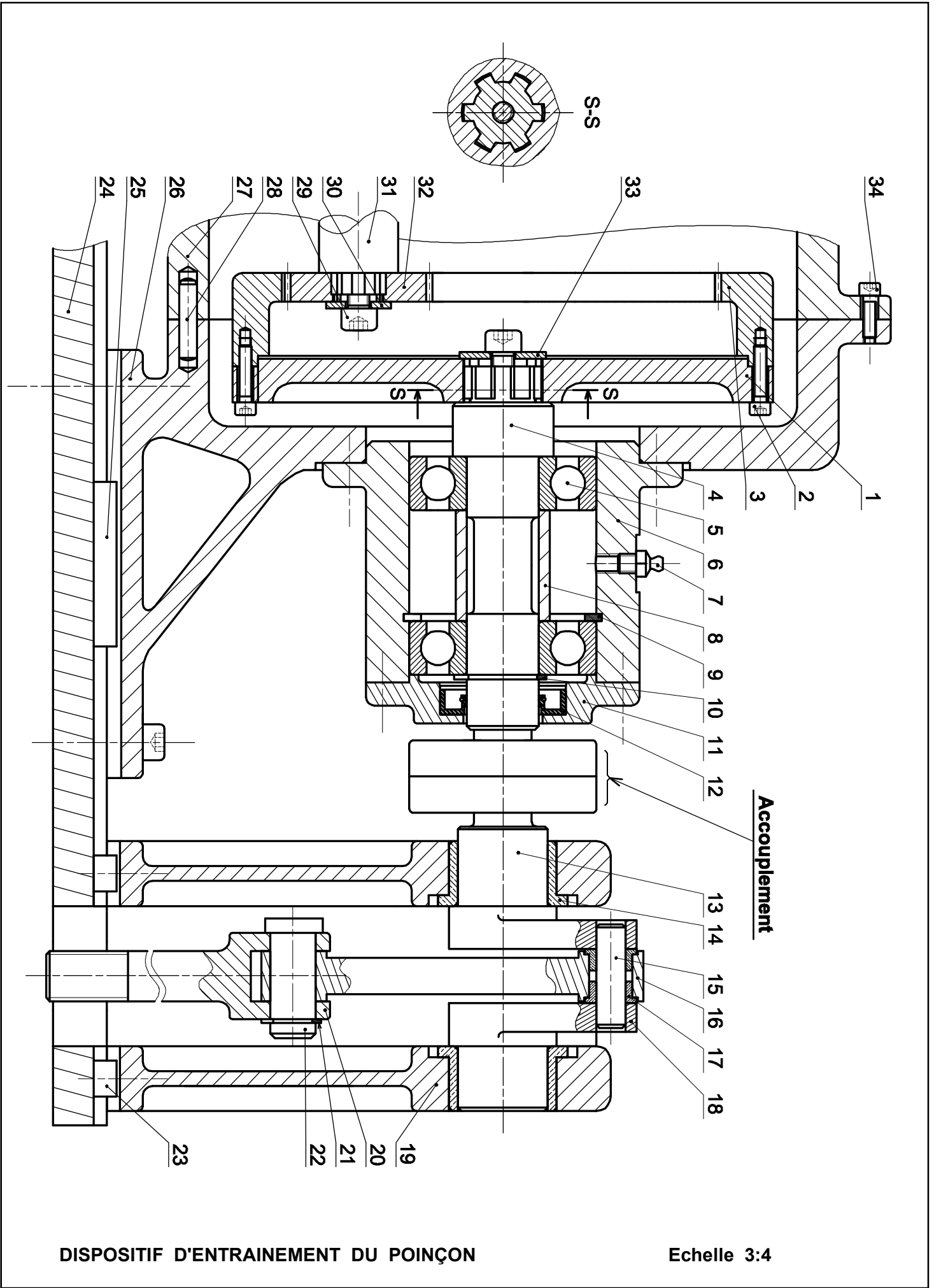


9- Nomenclature

17	2	Coussinet à collerette frittée
16	1	Bielle
15	1	Axe
14	2	Coussinet à collerette frittée
13	1	Manivelle gauche
12	1	Joint à lèvres
11	1	Couvercle
10	1	Anneau élastique pour arbre
9	1	Anneau élastique pour alésage
8	1	Bague
7	1	Graisser
6	1	Boîtier
5	2	Roulement à une rangée de billes à contact radial
4	1	Arbre
3	1	Couronne
2	4	Vis à tête cylindrique à six pans creux, M4x16
1	1	Porte - couronne
Rp	Nb	Désignation

34	3	Vis à tête cylindrique à six pans creux M5x12
33	1	Rondelle spéciale
32	1	Pignon
31	1	Arbre moteur
30	1	Rondelle spéciale
29	1	Vis à tête cylindrique à six pans creux M6x10
28	2	Pied de centrage
27	1	Demi-carter droit
26	1	Demi-carter gauche
25	1	Clavette parallèle, forme A, 6x6x45
24	1	Semelle
23	2	Lardon
22	1	Axe
21	1	Anneau élastique pour arbre
20	1	coulisseau
19	2	Palier
18	1	Manivelle droite
Rp	Nb	Désignation

DISPOSITIF D'ENTRAINEMENT DE COMMANDE DU POINÇON



DISPOSITIF D'ENTRAINEMENT DU POINÇON

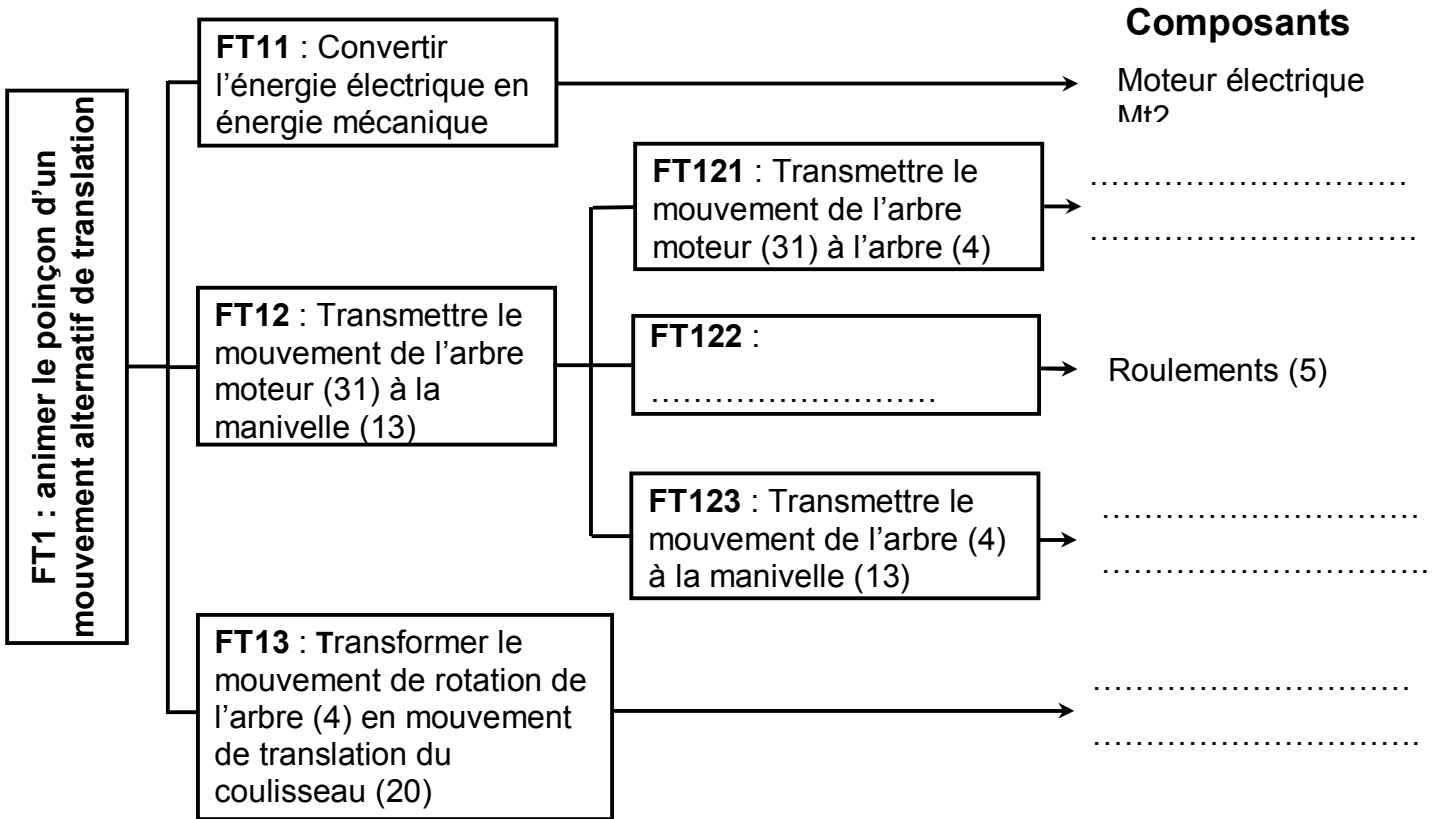
Echelle 3:4

A- PARTIE GENIE MÉCANIQUE

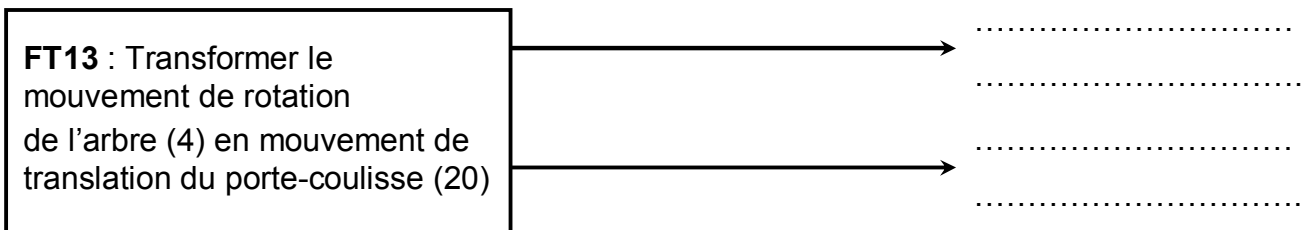
1- Etude du poinçon

En se référant au dessin d'ensemble du dispositif d'entraînement du poinçon et à sa nomenclature (voir dossier technique pages 5/6 et 6/6),

1-1 compléter le diagramme F.A.S.T relatif à la fonction FT1.



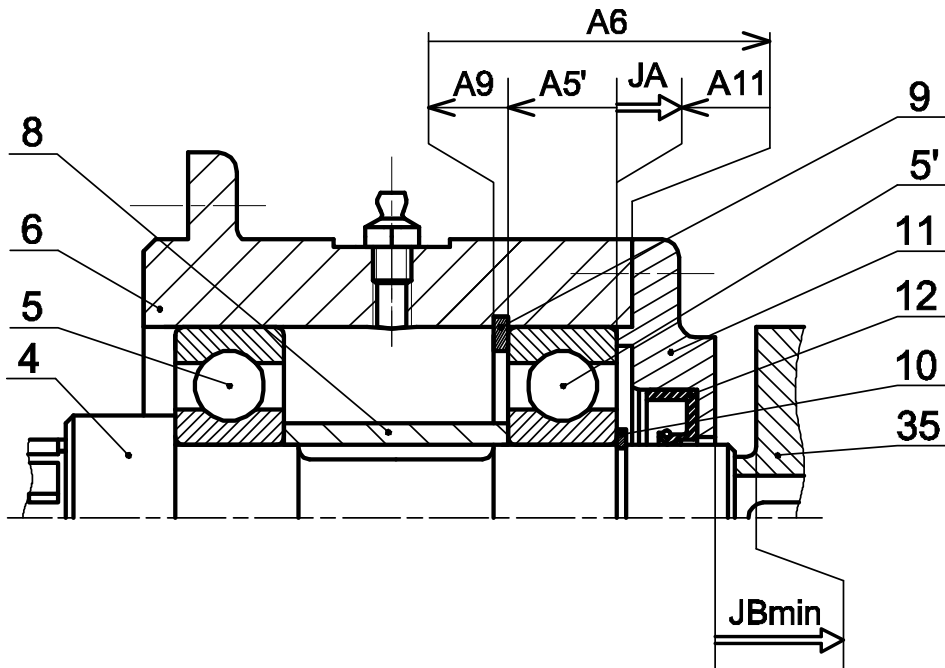
1-2 proposer deux autres solutions assurant la fonction FT13



1-3 pour l'assemblage de l'arbre (4) avec le porte couronne (1), compléter le tableau suivant :

	Mise en position	Maintien en position
Assemblage (4) - (1)

2- Etude du guidage de l'arbre (4)



2-1 Ecrire les équations limites de la condition JA.

$JA_{\min} = \dots\dots\dots$

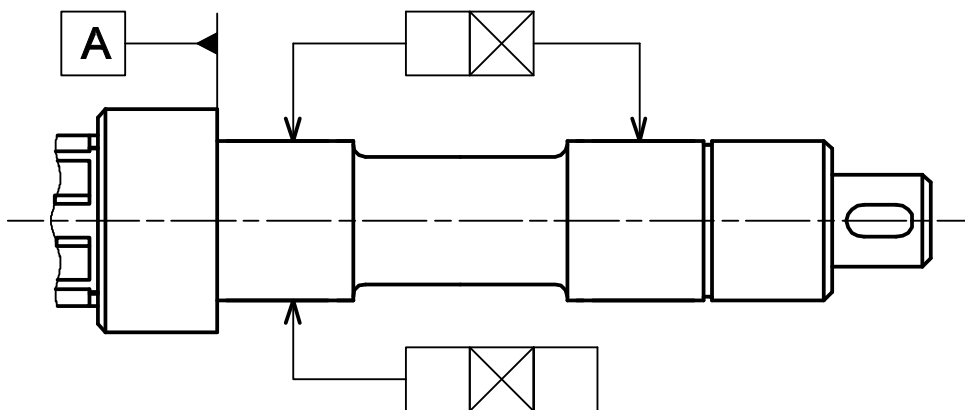
$JA_{\max} = \dots\dots\dots$

2-2 Tracer la chaîne de cotes installant la condition JB_{\min} .

2-3 Sur le dessin ci-dessous de l'arbre (4) :

a- reporter la cote fonctionnelle déduite de la chaîne de cotes JB_{\min} .

b- indiquer les tolérances de position des portées des roulements.



4- Etude du mouvement du poinçon

Le cahier des charges impose une vitesse maximale du choc entre le poinçon et le plateau, **$V_{ch_{max}} = 1,2 \text{ m/s}$** .

On se propose de vérifier si la transmission utilisée pour l'entraînement du poinçon répond à cette condition avec les données suivantes :

- vitesse de rotation de l'arbre moteur (31) : **$N_{31} = 1500 \text{ tr/mi}$**
- nombre de dents du pignon (32) : **$Z_{32} = 40 \text{ dents}$** .
- nombre de dents de la couronne (3) : **$Z_3 = 120 \text{ dents}$** .
- rayon de la manivelle (13) : **$R_{13} = 30 \text{ mm}$** .

4-1 Calculer la vitesse de rotation **N_4** de l'arbre (4).

.....
.....
.....

$N_4 =$

4-2 Calculer la vitesse linéaire au point A de la manivelle (13) : $\overrightarrow{V(A,13/0)}$ en m/s (Voir figure ci-contre).

.....
.....
.....
.....
.....

4-3 Représenter à l'échelle, sur le schéma ci-contre, la vitesse linéaire de la manivelle (13) au point A $\overrightarrow{V(A,13/0)}$ sachant que $\|\overrightarrow{V(A,13/0)}\| = 1,6 \text{ m/s}$

4-4 Déterminer à l'échelle sur le schéma ci-contre, la vitesse du point B du porte-coulisse (20) $\overrightarrow{V(B,20/0)}$ en utilisant la méthode de l'équiprojectivité des vitesses.

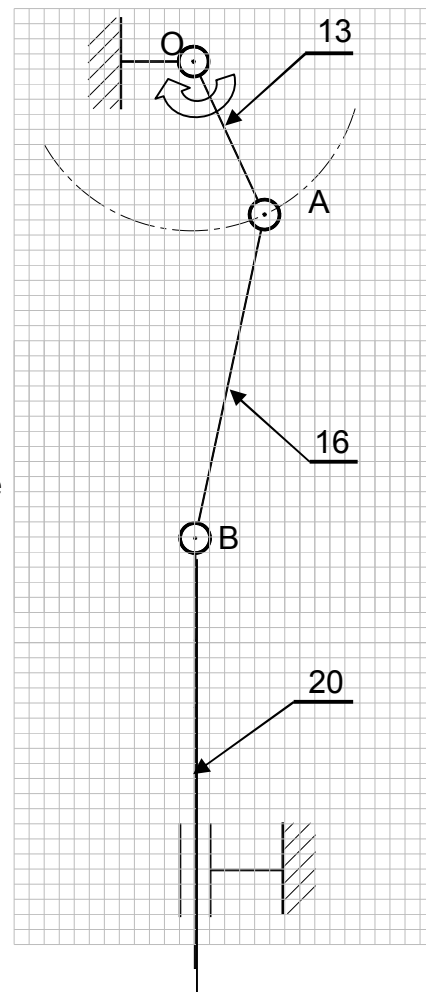
.....
..... $\overrightarrow{V(B,20/0)} =$

4-5 Dédure la vitesse du choc du poinçon $\overrightarrow{V_{ch}}$,

.....
..... $\overrightarrow{V_{ch}} =$

4-6 Vérifier si cette vitesse répond à la condition du cahier des charges. Justifier.

.....
.....
.....



Echelle : 0,1m/s \rightarrow 2mm

Position de choc

5- Etude de l'assemblage du palier (19)

On donne à l'échelle 1:1 le dessin d'ensemble partiel défini par la vue de face en coupe A-A et la vue de droite incomplète.

5-1 compléter sur la vue de droite :

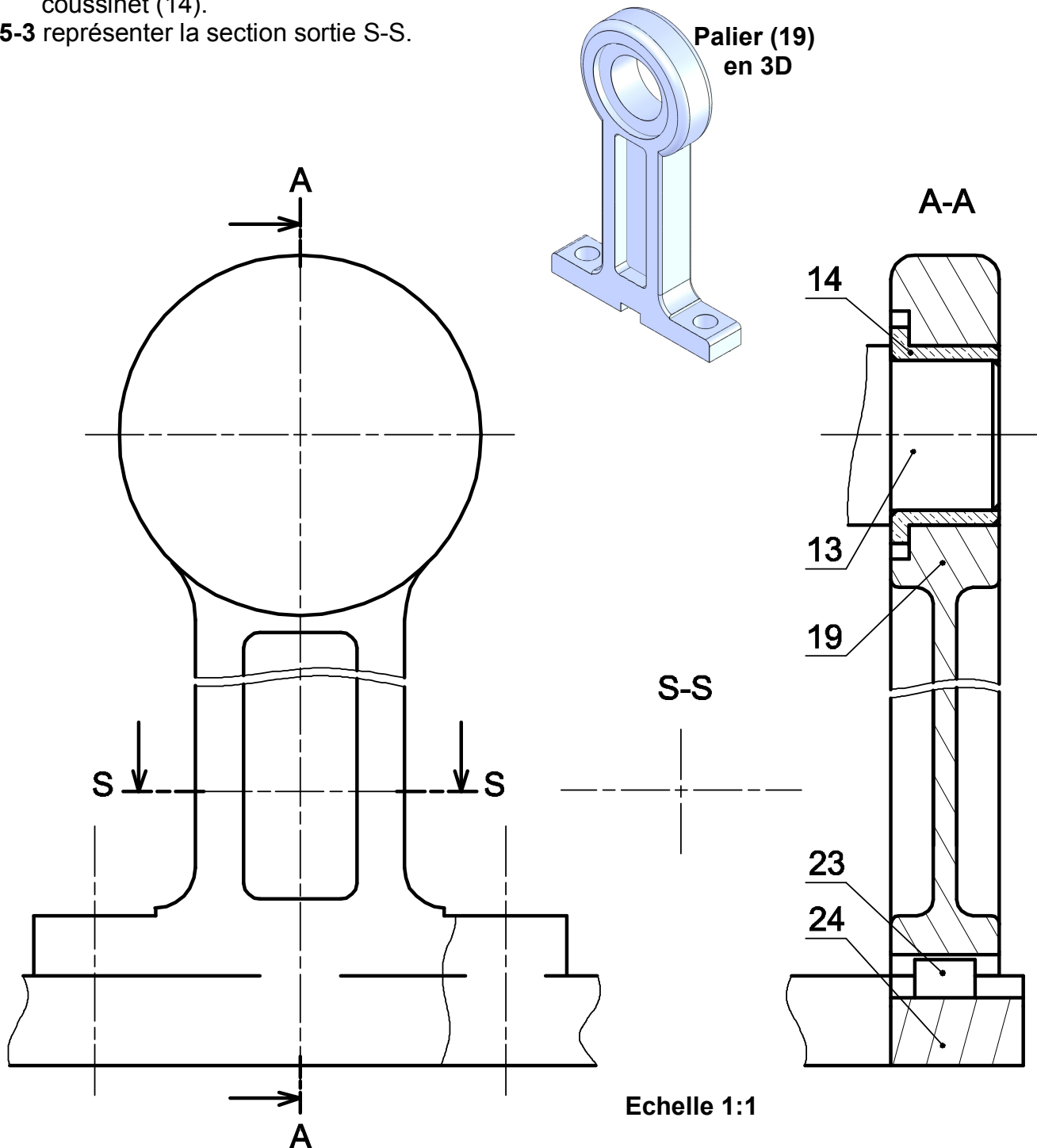
5-1-1 la représentation de l'assemblage du palier (19) avec la semelle (24) en assurant :

- le positionnement du palier par un lardon (23) de largeur 8 mm.
- la fixation du palier sur la semelle par deux vis à tête cylindrique à six pans creux dont les dimensions seront choisies à partir de la page 4/6 du dossier technique.

5-1-2 la représentation de la manivelle (13) et le coussinet (14) sur la vue de droite.

5-2 indiquer, sur la vue de face en coupe A-A, les ajustements relatifs au montage du coussinet (14).

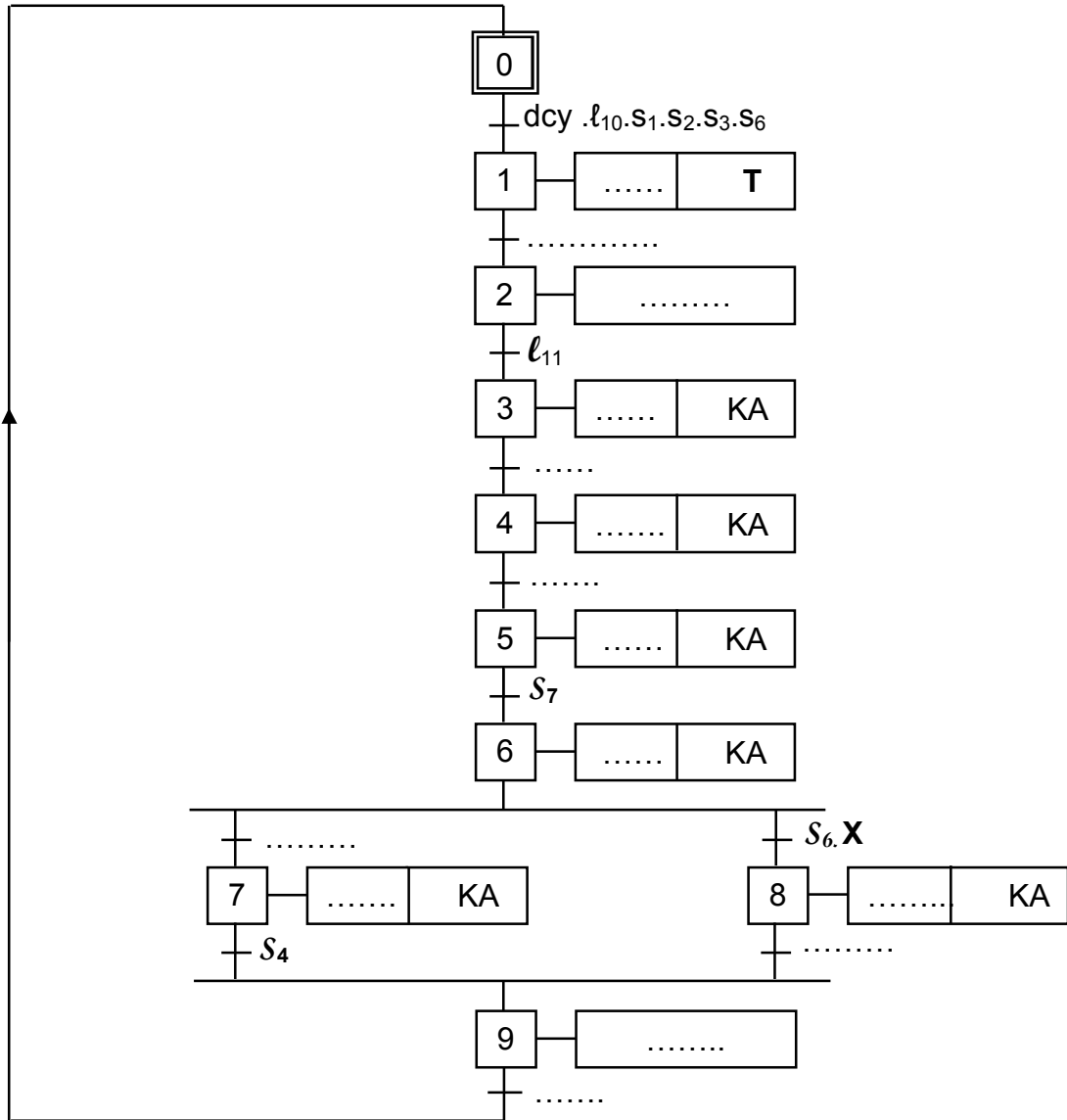
5-3 représenter la section sortie S-S.



B-PARTIE GENIE ELECTRIQUE

I- Etude de la commande du système :

1- En se référant au dossier technique (pages 1/6 et 2/6), compléter le GRAFCET d'un point de vue de la partie commande.



2- Déterminer les équations d'activation A et de désactivation D des étapes 6, 8 et 9.

Étapes	Activation	Désactivation
6	$A_6 = \dots\dots\dots$	$D_6 = \dots\dots\dots$
8	$A_8 = \dots\dots\dots$	$D_8 = \dots\dots\dots$
9	$A_9 = \dots\dots\dots$	$D_9 = \dots\dots\dots$

3- En se référant au GRAFCET précédent et aux tableaux d'affectation, page 3/6 du dossier technique, compléter au choix (TSX ou AEG) la liste des instructions relatives aux étapes 6, 8, 9 et à la sortie KA .

Automate TSX		
.....	Etape 6 (%M6)
.....	
.....	
.....	
.....	
.....	
.....	
.....	
.....	
.....	
.....	Etape 8 (%M8)
.....	
.....	
.....	
.....	
.....	
.....	
.....	
.....	
.....	
		Etape 9 (%M9)
		Sortie KA

Automate AEG		
.....	Etape 6 (M6)
.....	
.....	
.....	
.....	
.....	
.....	
.....	
.....	
.....	
.....	Etape 8 (M8)
.....	
.....	
.....	
.....	
.....	
.....	
.....	
.....	
.....	
		Etape 9 (M9)
		Sortie KA

II- Etude du moteur Mt2 :


La plaque signalétique du moteur asynchrone Mt2 est donnée par la figure ci-contre.

1- Le moteur est alimenté par un réseau triphasé 230/400 V, comment doit-on coupler ses enroulements pour qu'il fonctionne normalement ?

.....

2- Quel est le nombre de pôles du stator ?

.....

 LEROY SOMER		Mot. 3 ~ LS 80 L T			
		N° 734570 BJ 002 kg 9			
IP 55 I cl. F		40 °C		S1	
V	Hz	min ⁻¹	kW	cos φ	A
D 220	50	1 390	0,75	0,86	3,3
Y 380		1 400	0,75	0,83	1,9
D 230		1 400	0,75	0,83	3,3
Y 400	50	1 415	0,75	0,80	1,9
D 240					3,3
Y 415					1,9
Moteurs Leroy-Somer					

3- En régime nominal
 a- calculer le glissement (en %).

.....

b- calculer sa puissance absorbée

.....

.....

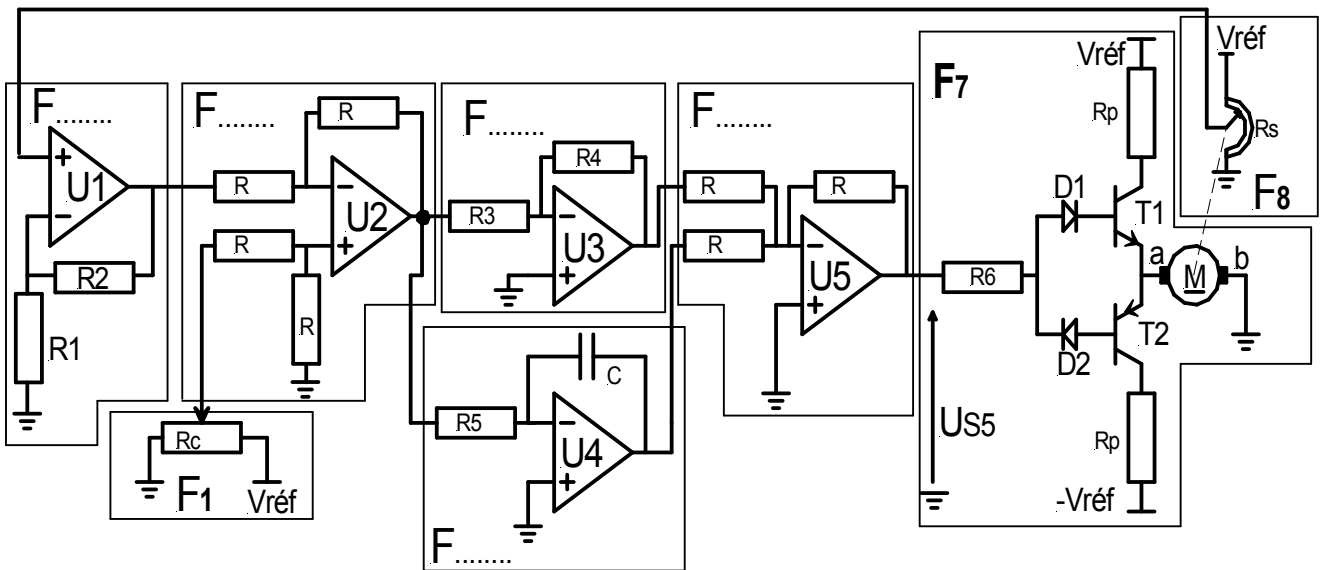
c – déterminer son rendement.

.....

.....

III- Etude de l'asservissement de position du moteur Mt3

1-En se référant au schéma fonctionnel de l'asservissement à la page 3/6 du dossier technique, repérer en indiquant sur le schéma structural ci-dessous les indices des différents blocs fonctionnels



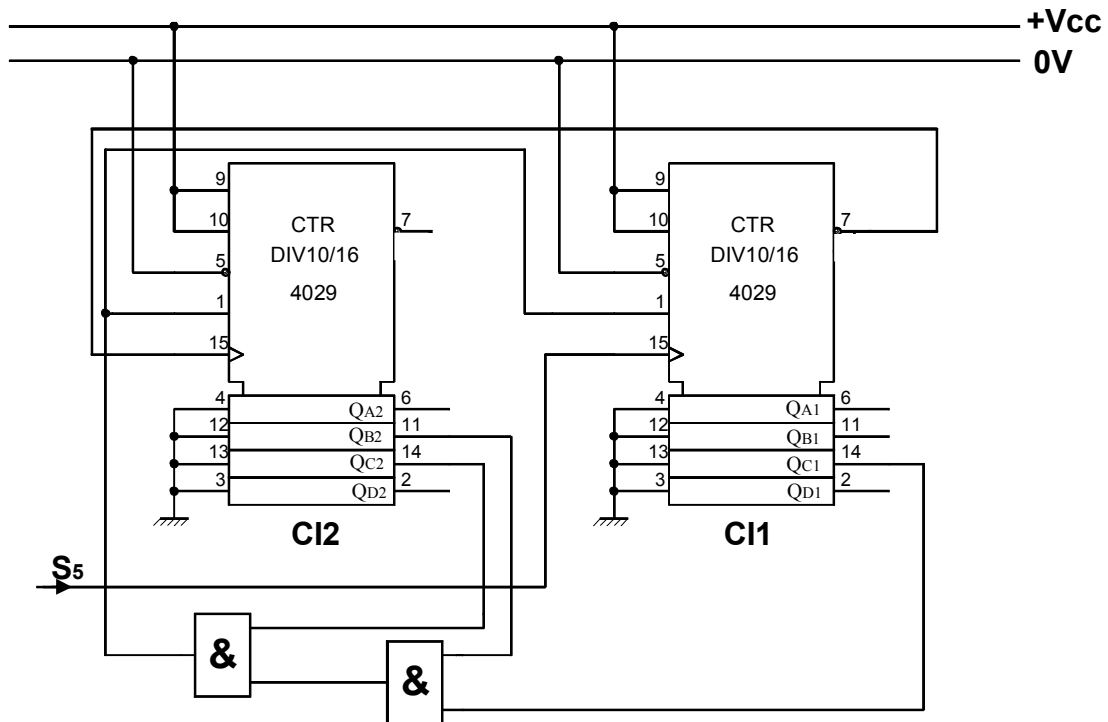
2- Sachant qu'un transistor bloqué ($I_B=0$) se comporte comme un interrupteur ouvert et qu'un transistor saturé ($I_B = I_{Bsat}$) se comporte comme un interrupteur fermé. Compléter le tableau suivant selon les différentes valeurs de U_{S5} en précisant les états des transistors T1 et T2 (saturé ou bloqué), des diodes D1 et D2 (bloquée ou passante) et le sens du courant dans le moteur Mt3 (de a vers b , de b vers a ou nul).

	T1	T2	D1	D2	Sens du courant
$U_{S5} > 0$					
$U_{S5} = 0$					
$U_{S5} < 0$					

IV- Etude du système de comptage :

Les pièces bonnes sont rangées dans la caisse N° 2 de capacité limitée. Un circuit de comptage à base de circuits intégrés 4029 incrémenté par le capteur **S5**, permet de compter le nombre de ces pièces en vue de leur emballage. Lorsque ce nombre désiré est atteint, un avertisseur sonore retentit pour avertir l'opérateur et remettre automatiquement le compteur à zéro.

La figure ci-dessous représente le schéma de câblage de ce compteur.



En se référant au document constructeur du compteur **4029** (Dossier technique page 4/6) et au schéma de câblage du compteur ci-dessus :

1- écrire l'équation logique de **PL** :

PL =

2- compléter le tableau suivant relatif à l'état d'activation de **PL** :

CI2			
QD2	QC2	QB2	QA2
.....

CI1			
QD1	QC1	QB1	QA1
.....

3- déduire le modulo de ce compteur matérialisant la capacité de la caisse N°2 :

Modulo