

Section : N° d'inscription : Série :

Nom et Prénom :

Date et lieu de naissance :

Signatures des
surveillants

.....
.....

Epreuve: *STI* - Section : *Sciences de l'informatique* - Session principale 2024

20

Le sujet comporte 14 pages numérotées de 1 sur 14 à 14 sur 14.

Les pages de 1 à 10 sont à remettre.

Exercice N°1 (2 points)

Pour chacune des questions ci-dessous, mettre une croix (X) dans la case correspondante à la réponse correcte.

Important : Pour chaque question, toute réponse comportant plus d'une croix est considérée erronée.

1) En HTML, quelle est la signification du mot **href** dans l'exemple ci-dessous ?

```
<a href="http://www.programming.info"> Suivez le lien </a>
```

- Un attribut
- Une valeur
- Un élément

2) En PHP, quelle sera la valeur de la variable **\$X** après exécution de l'instruction suivante ?

```
$X = (int)2.99 ;
```

- NULL
- 2
- 3

3) En PHP, quelle est l'instruction qui permet d'afficher le nombre d'éléments d'un tableau d'entiers nommé **\$A** ?

- `echo(count($A)) ;`
- `echo(num_rows($A)) ;`
- `echo(array($A)) ;`

Ne rien écrire ici

4) En CSS, que représente **#cercle** dans la règle suivante ?

```
#cercle {color: green;}
```

- une propriété
- une valeur
- un sélecteur

5) En CSS, quelle est la déclaration qui permet de faire pivoter un élément de **45** degrés ?

- translate : rotate(45deg) ;
- transform : rotate(45deg) ;
- rotate : transform(45deg) ;

6) En JavaScript, qu'affiche l'instruction suivante ?

```
alert("1" + "2")
```

- 3
- 12
- erreur

7) En JavaScript, quelle est l'instruction qui permet d'afficher l'année sur 4 chiffres d'un objet **D** de type **Date** ?


- alert(D.getDate())
- alert(D.setFullYear())
- alert(D.getFullYear())

8) En JavaScript, que renvoie **parseFloat("12.5")** ?

- 12
- 12.5
- NaN

Ne rien écrire ici

Exercice N°2 (5 points)

 L'énoncé figure dans la page 11.

En se référant à la représentation graphique de la base de données et au tableau de description des champs, répondre aux questions qui suivent.

1^{ère} Partie : Interprétation de la représentation graphique

- 1) Compléter le tableau ci-dessous en mettant une croix (X) dans la colonne **Vrai** lorsque la proposition citée est vérifiée, ou dans la colonne **Faux** dans le cas contraire.

Proposition	Vrai	Faux
a. Un propriétaire peut posséder plusieurs chevaux.		
b. Une course peut être associée à plusieurs compétitions.		
c. Les courses d'une compétition peuvent se dérouler à des dates différentes.		
d. Un cheval participe uniquement à une seule compétition.		
e. Le rang d'un cheval, enregistré dans la table Resultat , correspond à son classement dans une course.		

- 2) Compléter le tableau ci-après par les informations manquantes relatives aux colonnes : **Contrainte d'intégrité**, **Type de contrainte** et **Champ(s) concerné(s)**.

Contrainte d'intégrité	Type de contrainte	Champ(s) concerné(s)
a. Contrainte qui garantit que chaque cheval est associé à un propriétaire.
b. Contrainte qui garantit	Contrainte de domaine	rang
c. Contrainte qui garantit qu'un cheval ne peut avoir qu'un seul résultat par course.

Ne rien écrire ici

2^{ème} Partie : Extension et modification de la base de données

Important : A chaque représentation textuelle demandée, indiquer les clés primaires et étrangères.

- 1) L'association se propose de modifier la conception de la base de données afin de permettre la **copropriété** de chevaux. Ainsi, un cheval peut appartenir, à **une date donnée**, à **un ou plusieurs propriétaires**. De même, un propriétaire peut posséder un ou plusieurs chevaux.

Proposer une représentation textuelle des tables **Proprietaire** et **Cheval**, ainsi que celle de toute nouvelle table indispensable permettant de prendre en compte cette modification.

.....
.....
.....
.....
.....

- 2) Afin de permettre à un cheval de participer à toutes les courses d'une compétition, l'association se propose d'ajouter la règle de gestion suivante :

R : Les courses d'une même compétition commencent à des horaires différents.


Selon la conception proposée de la base de données, la règle **R** n'est pas respectée. En effet, il est possible d'insérer dans la table **Course**, les deux lignes suivantes :

idCourse	heureCourse	distance	idComp
C2	14:15	1600	H23
C3	14:15	3200	H23

Proposer une représentation textuelle des tables **Course** et **Resultat** permettant de prendre en compte la règle **R**.

.....
.....
.....
.....
.....

Voir suite ➡




Section : N° d'inscription : Série :

Nom et Prénom :

Date et lieu de naissance :

Signatures des surveillants
.....
.....



Epreuve: *STI* - Section : *Sciences de l'informatique* - Session principale 2024

20

Exercice N°3 (13 points)

L'énoncé figure dans les pages 12, 13 et 14.

1^{ère} Partie : Gestion de la base de données

En se référant à la représentation textuelle de la base de données et au tableau de description des champs figurant à la **page 12**, répondre aux questions qui suivent.

I. Interprétation des requêtes

On donne ci-dessous un extrait des tables **Vanne** et **Capteur**.

Vanne		
idVan	etatVan	idBar
101	1	1
102	0	2
103	1	1
104	0	3

Capteur		
idCapt	refCapt	idVan
1	CapteurDeFlux-500	101
2	AquaSense-2000	102
3	DeltaNiveau-2000	103
4	SmartFlowMeter-600	104
5	DébitMètre-800	102

1) En se basant sur l'extrait fourni, donner le résultat de l'exécution de la requête **R** suivante :

```
SELECT idVan, etatVan
FROM Vanne
WHERE idVan IN (SELECT idVan
                FROM Capteur
                WHERE refCapt LIKE "D%");
```

.....
.....
.....

2) En déduire le rôle de la requête **R**.

.....
.....

3) Donner une requête SQL équivalente à la requête **R**, sans utiliser l'opérateur **IN**.

.....
.....
.....
.....

Ne rien écrire ici

II. Manipulation des données et de la structure de la base

A- Ecrire les requêtes SQL permettant de répondre aux questions suivantes :

1) Quelles sont les vannes ouvertes du barrage d'identifiant 5 ? *on affichera le champ idVan.*

.....
.....
.....

2) Quels sont les capteurs qui ont générés des alertes ayant un degré **critique** et dont le statut est **non résolu** ? *On affichera les champs idCapt et refCapt.*

.....
.....
.....
.....

3) Quel est le nombre de vannes par barrage ? *On affichera les champs idBar, nomBar ainsi que le nombre de vannes.*

.....
.....
.....

4) Quels sont les barrages susceptibles de subir une crue (le niveau d'eau est supérieur à 90% de la hauteur du barrage), pendant le mois en cours de l'année 2024 ? *On affichera, sans répétition, les champs idBar et nomBar.*

.....
.....
.....
.....
.....

Voir suite au verso ↩

Ne rien écrire ici

- 5) Quels sont les capteurs dont la dernière date de mesure est effectuée avant le **15 février 2024** ?
On affichera les champs *idCapt*, *refCapt* et la dernière date de mesure effectuée.

.....

.....

.....

.....

B- Ecrire les requêtes SQL permettant de répondre aux situations suivantes :

- 1) Pour alléger la base de données, on se propose de supprimer les alertes dont le statut est "R".

.....

.....

- 2) En raison d'un dysfonctionnement du capteur d'identifiant 4, on se propose de diminuer de 2 unités les mesures enregistrées entre le **29 janvier 2024** et le **02 février 2024**.

.....

.....

.....

- 3) Pour classer les capteurs selon leurs catégories, on se propose d'ajouter une nouvelle table nommée **Categorie** définie comme suit :

Champ	Description et type
idCat	Identifiant d'une catégorie, de type entier (clé primaire).
nomCat	Nom d'une catégorie, de type chaîne de 50 caractères au maximum.

.....

- 4) On se propose de restreindre les valeurs permises pour le champ **nomCat** de la table **Categorie**, déjà créée, aux valeurs suivantes : "**débit**", "**pression**" et "**température**".

.....

.....

- 5) On se propose d'établir la relation entre les tables **Capteur** et **Categorie** en ajoutant le champ **idCat** comme clé étrangère dans la table **Capteur**

.....

.....

.....

Ne rien écrire ici

2^{ème} Partie : Programmation Web

I. Analyse et interprétation du code HTML

En se basant sur la figure *Figure3 (page 13)*, répondre aux questions suivantes :

- 1) À la ligne N° 9, par quel évènement remplacer **onclick** pour que la fonction **demarrage()** soit appelée dès le chargement de la page ?

```
<body onclick = "demarrage()">
```

- 2) À la ligne N° 11, que représente le terme **img** de l'attribut **src** ?

```
<img id = "img" src = "img/tunisie.bmp" alt = "Carte Tunisie">
```

- 3) Quand se déclenche l'appel de la fonction **barrage(1)** figurant à la ligne N° 12 ?

```
<div class = "zone" id = "b1" onmouseover = "barrage(1)"></div>
```

- 4) À la ligne N° 16, quel est le rôle de l'expression **target = "_ blank"** ?

```
<form action = "details.php" method = "post" target = "_ blank" >
```

- 5) À la ligne N° 17, quel est le rôle de l'attribut **hidden** ?

```
<input type = "text" name = "inf01" id = "inf01" hidden>
```

Voir suite ➡



Section : N° d'inscription : Série :


Nom et Prénom :

Date et lieu de naissance :

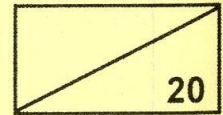
Signatures des surveillants

.....

.....



Epreuve: STI - Section : Sciences de l'informatique - Session principale 2024



II. Analyse et interprétation du code CSS

En se basant sur les figures *Figure3 (page 13)* et *Figure5 (page 14)* et pour chaque étiquette indiquée dans le fichier **mesStyles.css**, encercler la proposition correcte qui correspond à la description donnée.

Etiquette	Description	Proposition
1	Valeur permettant d'afficher les éléments de la classe carte conformément à leurs positions spécifiées dans le fichier <i>mesStyles.css</i> .	none inline-block
2	Déclaration permettant d'afficher les boîtes de la classe zone sous forme circulaire.	border-radius : 50% border-width : thin
3	Déclaration permettant d'afficher, en gras, le contenu de l'élément ayant l'identifiant " affichage ".	font-weight : bold font-family : bold

III. Analyse et interprétation du code JavaScript

En se basant sur la figure *Figure4 (page 13)*, répondre aux questions suivantes :

- 1) Compléter le tableau ci-dessous en précisant pour chaque variable sa portée (**locale ou globale**).

Variable	debut	fin
Portée

- 2) Donner le rôle de chaque instruction figurant à la ligne spécifiée :

Ligne N° 8 `fin = lesBarrages.indexOf("#" , debut)`

.....

.....

Ligne N° 12 `unBarrage = lesBarrages.substr(debut , fin - debut)`

.....

.....

Ligne N° 18 `document.getElementById("info2").innerHTML = infoBarrage`

.....

.....

Ne rien écrire ici

IV. Analyse et interprétation du code PHP

En se basant sur la figure *Figure6 (page 14)*, et pour chacune des questions ci-dessous, mettre une croix (X) dans la case correspondante à la réponse correcte.

Important : Pour chaque question, toute réponse comportant plus d'une croix est considérée erronée.

1) Quel est le comportement du script dans le cas où le fichier "**connexion.php**", appelé dans la ligne N° 2, est inexistant ?

- Une erreur est générée et le script s'arrête.
- Une erreur est générée et le script continue à s'exécuter.
- Le script s'exécute avec les paramètres de connexion par défaut.

2) Etant donné qu'au niveau de la ligne N° 7, la variable **\$nomBarrage** peut contenir un nom de barrage comportant le caractère '_' (comme "Sidi_Salem"), quelle instruction faut-il ajouter à la ligne N° 8 pour remplacer chaque caractère '_' de la variable **\$nomBarrage** par un **espace** ?

- `$nomBarrage = str_replace('_', ' ', $nomBarrage);`
- `$nomBarrage = strcmp('_', ' ');`
- `$nomBarrage = substr($nomBarrage, strpos($nomBarrage, '_'), strlen($nomBarrage));`

3) Quel est le comportement du script en cas d'erreur syntaxique dans la requête SQL de la ligne N° 9 ?

- Le script affiche le message "Problème de connexion" et s'arrête.
- Le script affiche le message "Requête erronée" et s'arrête.
- Le script affiche le message "Barrage non existant" et s'arrête.

4) Quel est le comportement du script si on modifie l'instruction de la ligne N° 13, comme indiqué ci-dessous ?

```
{ $message = $lig[0] . " * " . $lig[1] . " * " . $lig[2]; }
```

- Le script génère une erreur de syntaxe et s'arrête.
- Le script génère une erreur de syntaxe puis affiche le message "Barrage non existant".
- Le script ne modifie pas son comportement car il est possible d'accéder aux éléments du tableau résultat soit par leurs noms ou leurs indices.

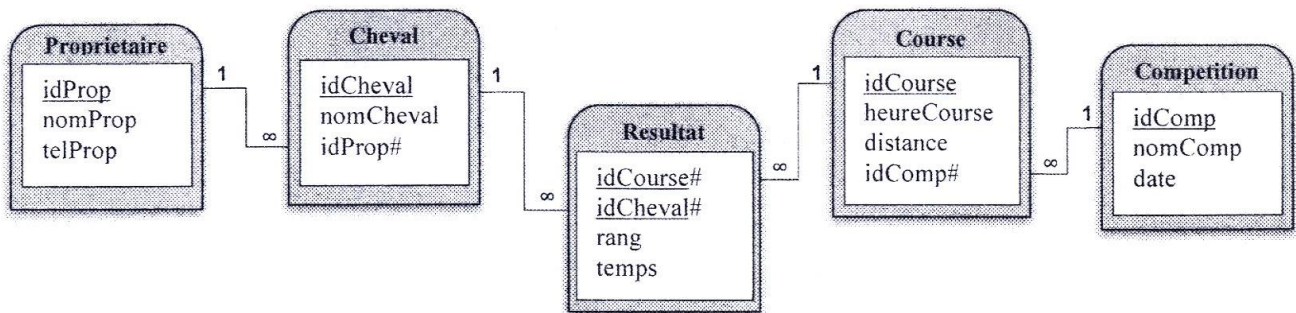
RÉPUBLIQUE TUNISIENNE MINISTÈRE DE L'ÉDUCATION	EXAMEN DU BACCALAURÉAT	Session principale	2024
	Épreuve : Systèmes et Technologies de l'Informatique		Section : Sciences de l'informatique
	Durée : 3 Heures		Coefficient de l'épreuve : 1.8

N° d'inscription

Enoncé de l'exercice N°2

HippicTeams est une association qui regroupe des amateurs de chevaux. Elle organise des compétitions hippiques mensuelles comportant plusieurs courses qui se déroulent au cours d'une même journée.

Pour diffuser les détails des compétitions, l'association se propose de mettre en place une base de données simplifiée dont la structure est illustrée par la représentation graphique suivante :



Les champs des tables sont décrits dans le tableau suivant :

Champ	Description
idProp	Identifiant du propriétaire d'un cheval.
nomProp	Nom du propriétaire d'un cheval.
telProp	Numéro de téléphone du propriétaire d'un cheval.
idCheval	Identifiant d'un cheval.
nomCheval	Nom d'un cheval.
idComp	Identifiant d'une compétition.
nomComp	Nom d'une compétition.
date	Date de déroulement d'une compétition.
idCourse	Identifiant d'une course.
heureCourse	Heure de début d'une course.
distance	Distance à parcourir dans une course, exprimée en mètre.
rang	Classement d'un cheval dans une course (entier strictement positif).
temps	Temps réalisé par un cheval dans une course, exprimé en seconde.

Enoncé de l'exercice N°3

Dans le cadre de la gestion des ressources hydrauliques, on dispose d'un site web qui diffuse les données des barrages des différentes régions de la Tunisie. Ces informations sont disponibles sur une cartographie interactive (voir *Figure1* et *Figure2* de la page 13) qui permet d'afficher pour chaque barrage choisi son nom, sa superficie et éventuellement d'autres informations supplémentaires enregistrées dans la base de données «Gestion_Barrage».

Généralement, un barrage est équipé de plusieurs vannes qui sont contrôlées par des capteurs permettant de collecter des informations telles que le débit, la pression et la température.

1^{ère} Partie : Gestion de la base de données

La base de données « Gestion_Barrage » est décrite par la représentation textuelle simplifiée ci-dessous :

Barrage (idBar, nomBar, volume, hauteur, superficie)

NiveauEau (dateNiv, idBar#, niveau)

Vanne (idVan, etatVan, idBar#)

Capteur (idCapt, refCapt, idVan#)

Mesure (idMes, valMes, dateMes, idCapt#)

Alerte (idAlert, degAlert, statAlert, idMes#)

Les champs des tables sont décrits dans le tableau suivant :

Champ	Description et type
idBar	Identifiant d'un barrage, de type entier.
nomBar	Nom d'un barrage, de type chaîne de caractères.
volume	Capacité maximale d'un barrage exprimée en million m ³ , de type réel.
hauteur	Hauteur d'un barrage exprimée en mètre, de type réel.
superficie	Superficie d'un barrage exprimée en km ² , de type réel.
dateNiv	Date et heure de prélèvement du niveau d'eau d'un barrage.
niveau	Niveau d'eau exprimé en mètre, de type réel.
idVan	Identifiant d'une vanne, de type entier.
etatVan	Etat d'une vanne, de type entier (0 = fermé, 1 = ouvert).
idCapt	Identifiant d'un capteur, de type entier.
refCapt	Référence d'un capteur, de type chaîne de caractères.
idMes	Identifiant d'une mesure enregistrée par un capteur, de type entier.
valMes	Valeur de la mesure enregistrée par un capteur, de type réel.
dateMes	Date et heure d'une mesure enregistrée par un capteur.
idAlert	Identifiant d'une alerte déclenchée suite à une mesure, de type entier.
degAlert	Degré d'une alerte, de type entier (1 : avertissement, 2 : grave, 3 : critique).
statAlert	Statut d'une alerte, de type caractère ("R" : résolu, "A" : actif, "E" : en attente).

2^{ème} Partie : Programmation Web

Le site est composé des pages `index.html`, `mesStyles.css`, `controles.js` et `details.php` dont on présente les extraits ci-dessous.

✓ Page "index.html"

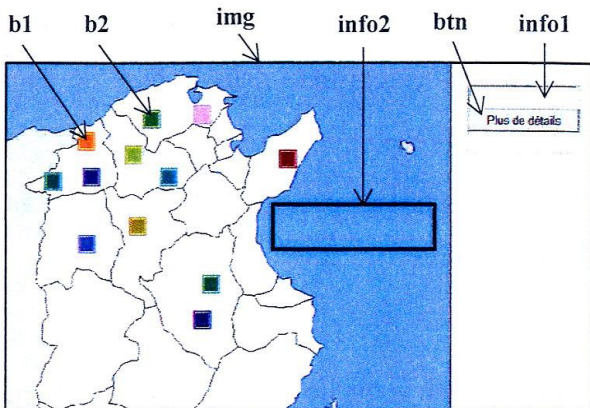


Figure1 : mode création

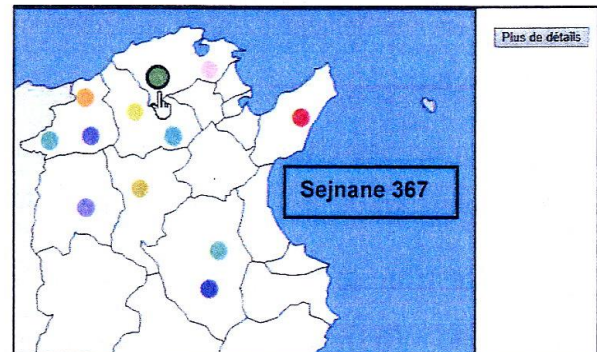


Figure2 : mode aperçu

```
3 <head>
4   <meta content="text/html; charset=utf-8" http-equiv="Content-Type">
5   <title>Carte des barrages de la Tunisie</title>
6   <script src = "controles.js" ></script>
7   <link href = "mesStyles.css" rel = "stylesheet" type = "text/css">
8 </head>
9 <body onclick = "demarrage()">
10  <div class="carte">
11    <img id = "img" src = "img/tunisie.bmp" alt = "Carte Tunisie" >
12    <div class = "zone" id = "b1" onmouseover = "barrage(1)" ></div>
13    <div class = "zone" id = "b2" onmouseover = "barrage(2)" ></div>
14    <!-- suite des barrages -->
15    <div class = "formulaire" id = "details" >
16      <form action = "details.php" method = "post" target = "_blank">
17        <input type = "text" name = "info1" id = "info1" hidden >
18        <input name = "Submit" type = "submit" id = "btn" value = "Plus de détails">
19      </form>
20    </div>
21    <div class = "formulaire" id = "affichage"><p id = "info2"></p></div>
22  </div>
23 </body>
```

Figure3 : extrait du code HTML

✓ Page "controles.js"

```
1 lesBarrages = "Benmtir 103#Sejnane 367#Sidi_Salem 7950#Joumine 418#"
2
3 function extraireBarrage(y){
4   let fin = -1 // Dans cet extrait "let" est équivalente à "var"
5   i = 0
6   let unBarrage = "Non disponible"
7   do { debut = fin + 1
8     fin = lesBarrages.indexOf("#" , debut)
9     i = i+1
10    } while (i != y && fin != -1)
11   if(fin != -1)
12     unBarrage = lesBarrages.substr(debut , fin - debut )
13   return unBarrage }
14
15 function barrage(x){
16   infoBarrage = extraireBarrage(x)
17   document.getElementById("info1").value = infoBarrage
18   document.getElementById("info2").innerHTML = infoBarrage }
```

Figure4 : extrait du code JavaScript

✓ Page "mesStyles.css"

```
img { width : 700px;}

.carte { position : relative;
        display : .....; } ①

.zone { position : absolute;
        .....; } ②

.formulaire { position : absolute;}

#affichage { top: 165px;
             left: 490px;
             width: 185px;
             .....; } ③

#details { top: 20px;
           left: 720px; }

#b1 { top: 85px;
      left: 265px;
      width: 20px;
      height: 20px;
      background-color: rgba(255, 180, 0, 0.5);}

#b2 { top: 60px;
      left: 340px;
      width: 20px;
      height: 20px;
      background-color: rgba(100, 180, 55, 0.5); }
```

Figure5 : extrait du code CSS

✓ Page "details.php"

```
1 <?php
2 require ("connexion.php");
3 $connect = mysqli_connect($host,$user,$pass,$base) or die("Problème de connexion");
4
5 $barrage = $_POST["info1"];
6 $posNom = strpos($barrage, " ");
7 $nomBarrage= substr($barrage , 0 , trim($posNom));
8
9 $sch="select * from barrage where nomBar = '$nomBarrage'";
10 $req = mysqli_query($connect,$sch) or die("Requête erronée");
11 $message="Barrage non existant";
12 if($lig = mysqli_fetch_array($req))
13     {$message = $lig["idBar"]." * ".$lig["nomBar"]." * ".$lig["volume"];}
14 echo($message);
```

Figure6 : extrait du code PHP

N.B. :

- Le fichier **connexion.php** contient les paramètres d'accès à la base de données.
- L'instruction de la **ligne 3** peut être exprimée comme suit :

```
mysqli_connect($host,$user,$pass) or die("Problème de connexion");
mysqli_select_db($base);
```

- L'instruction de la **ligne 10** peut être exprimée comme suit :

```
$req = mysqli_query($sch) or die("Requête erronée");
```

- L'instruction de la **ligne 12** peut être exprimée comme suit :

```
if($lig = mysqli_fetch_array($req))
```